

ММ194.

Из n натуральных чисел, идущих подряд, выбрали 6 и разбили их на две тройки. При этом оказалось, что площади треугольников, стороны которых равны числам из этих троек, равны.

При каком наименьшем n возможна такая ситуация?

Решение.

Возьмём формулу Герона (используя периметр треугольника, а не полупериметр как обычно) и преобразуем её:

$$S_{\Delta} = \sqrt{\frac{P}{2} \cdot \left(\frac{P}{2} - a\right) \cdot \left(\frac{P}{2} - b\right) \cdot \left(\frac{P}{2} - c\right)} = \frac{1}{4} \sqrt{P \cdot (P - 2a) \cdot (P - 2b) \cdot (P - 2c)}$$

Обозначим подкоренное выражение $F(a, b, c) = P \cdot (P - 2a) \cdot (P - 2b) \cdot (P - 2c)$. Если площади двух треугольников равны, то и значения введённой функции для сторон этих треугольников равны.

Для натуральных a , b и c значение $F(a, b, c)$ целочисленно. Причём значение функции той же чётности, что чётность периметра. Из шести последовательных натуральных чисел, как ни разбивай их на 2 тройки, сумма чисел в одной тройке будет чётной, а в другой - нечётной. Следовательно, $n > 6$.

Рассмотрим 7 идущих подряд натуральных чисел, например, начиная с t . Среди них будут 4 числа одной чётности и 3 другой. 4-ка чисел - $t, t+2, t+4, t+6$. Другую чётность имеют числа из второй группы $t+1, t+3, t+5$. При составлении из этих чисел 2-х троек, для обеспечения одинаковой чётности сумм чисел, в эти тройки должны попасть все 4 числа из первой группы и 2 из трёх чисел из второй группы.

Положим $a = t + t_1$, $b = t + t_2$, $c = t + t_3$ и подставим в функцию F :

$$\begin{aligned} F &= P \cdot (P - 2a) \cdot (P - 2b) \cdot (P - 2c) = (a + b + c) \cdot (a + b - c) \cdot (a - b + c) \cdot (-a + b + c) = \\ &= ((a + b)^2 - c^2) \cdot (c^2 - (a - b)^2) = \\ &= ((2t + t_1 + t_2)^2 - (t + t_3)^2) \cdot ((t + t_3)^2 - (t_2 - t_3)^2) = \end{aligned}$$

$$\begin{aligned}
&= 3t^4 + 4(t_1 + t_2 + t_3)t^3 + \left[\left(8(t_1t_2 + t_1t_3 + t_2t_3) - 2(t_1^2 + t_2^2 + t_3^2) \right) \right] t^2 + \\
&+ \left[\left(4(t_1^2t_2 + t_1t_2^2 + t_1^2t_3 + t_1t_3^2 + t_2^2t_3 + t_2t_3^2) - 4(t_1^3 + t_2^3 + t_3^3) \right) \right] t + \\
&+ \left[\left(2(t_1^2t_2^2 + t_1^2t_3^2 + t_2^2t_3^2) - (t_1^4 + t_2^4 + t_3^4) \right) \right]
\end{aligned}$$

Все коэффициенты многочлена - сами довольно симпатичные симметрические многочлены (от t_i).

Выбираем две тройки чисел $(t + t_1; t + t_2; t + t_3)$ и $(t + t_4; t + t_5; t + t_6)$ и найдём $\Delta = F(t; t_1; t_2; t_3) - F(t; t_4; t_5; t_6)$. Эта функция равна 0 при равенстве площадей треугольников. Переберём комбинаторно все допустимые комбинации троек (всего их 30) и найдём положительные корни данной функции. При этом ещё необходимо выполнение неравенства треугольника для каждой тройки.

Набор троек $(t_1; t_2; t_3) - (t_4; t_5; t_6)$:

- 1) (0; 1; 3) - (2; 4; 6)
- 2) (2; 1; 3) - (0; 4; 6)
- 3) (4; 1; 3) - (0; 2; 6)
- 4) (6; 1; 3) - (0; 2; 4)
- 5) (0; 1; 5) - (2; 4; 6)
- 6) (2; 1; 5) - (0; 4; 6)
- 7) (4; 1; 5) - (0; 2; 6)
- 8) (6; 1; 5) - (0; 2; 4)
- 9) (0; 3; 5) - (2; 4; 6)
- 10) (2; 3; 5) - (0; 4; 6)
- 11) (4; 3; 5) - (0; 2; 6)
- 12) (6; 3; 5) - (0; 2; 4)
- 13) (0; 2; 1) - (4; 6; 3)
- 14) (0; 4; 1) - (2; 6; 3)
- 15) (0; 6; 1) - (2; 4; 3)
- 16) (0; 2; 3) - (4; 6; 1)
- 17) (0; 4; 3) - (2; 6; 1)
- 18) (0; 6; 3) - (2; 4; 1)
- 19) (0; 2; 1) - (4; 6; 5)
- 20) (0; 4; 1) - (2; 6; 5)
- 21) (0; 6; 1) - (2; 4; 5)
- 22) (0; 2; 5) - (4; 6; 1)
- 23) (0; 4; 5) - (2; 6; 1)
- 24) (0; 6; 5) - (2; 4; 1)
- 25) (0; 2; 3) - (4; 6; 5)

26) (0; 4; 3) - (2; 6; 5)

27) (0; 6; 3) - (2; 4; 5)

28) (0; 2; 5) - (4; 6; 3)

29) (0; 4; 5) - (2; 6; 3)

30) (0; 6; 5) - (2; 4; 3)

Из этого списка виден порядок перебора и ясно, что приведены все возможные комбинации.

Перебор вариантов проведён в EXCELe, имя файла R_7.XLS. Выкладки проводятся на странице “Расчёт”. Вводить данные нужно в ячейки с красным фоном, на светло-коричневом фоне поясняющий текст, а на бежевом - переменные величины, рассчитываемые автоматически.

Вводится номер комбинации, в результате строится график многочлена $\Delta(t)$, на нём ищем корни многочлена, интерес представляют только положительные значения.

Выбираем вариант 1, получаем график

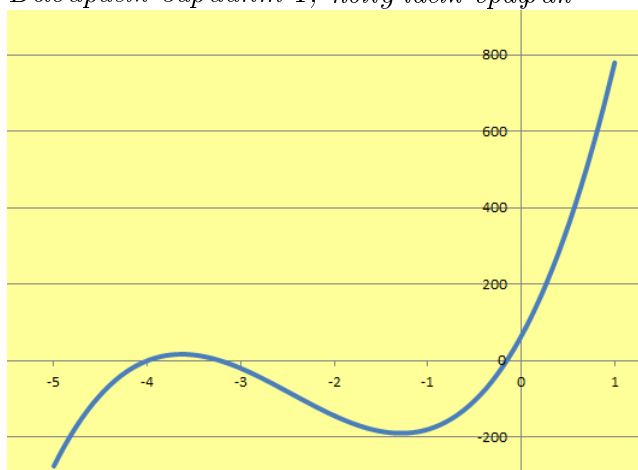
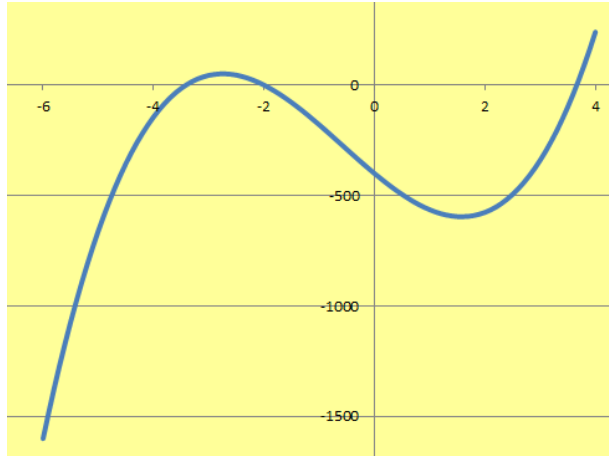


График многочлена 3-ей степени, все особые точки есть на графике, при положительных значениях x график монотонно возрастает, т.е. интересных корней нет. Далее просто перебираем номера вариантов и просматриваем графики. Для рассмотрения особых точек графика может потребоваться изменить его параметры - заполнить поля “Старт” и “Шаг” (красный фон), рядом приведены рекомендуемые к вводу значения (бежевый фон). Для справки рядом с графиком выведены тройки чисел, коэффициенты многочлена. Для 1-ого варианта получили $\Delta(t) = 32t^3 + 236t^2 + 448t + 64$.

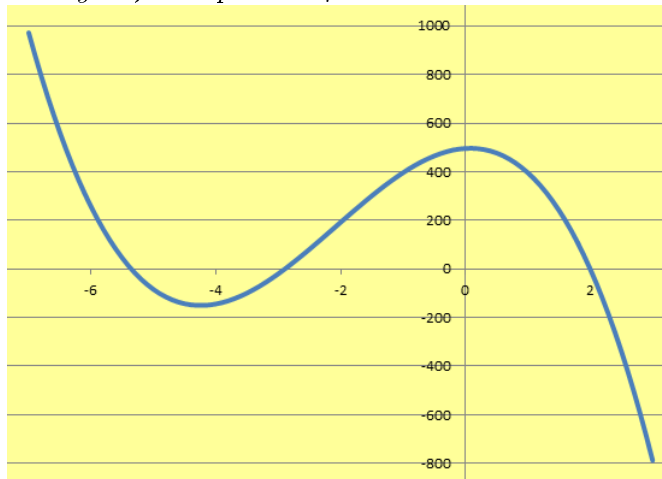
Рассмотрим вариант 2, установим рекомендуемые параметры графика.



Многочлен имеет вид $\Delta(t) = 16t^3 + 28t^2 - 208t - 400$. У него уже есть положительный корень, судя по графику он не целый. Для проверки этого слева от графика есть блок “Контрольный расчёт”. В нём одно красное поле, введём в него сначала $t = 3$, получаем $\Delta(3) = -340$, затем $t = 4$, и видим что $\Delta(4) = 240$. Таким образом, найденный корень действительно находится между 3 и 4, но не целый, т.е. не подходит.

Проверяем вариант 3, в нём коэффициент при третьей степени равен 0, график - квадратная парабола.

Следующий вариант 4.



По графику - имеем целый положительный корень $t = 2$, проверяем его и видим, что $\Delta(2) = 0$, целый положительный

корень найден. Но ниже блока расчёта есть блок, показывающий условие для выполнения неравенства треугольника $t > 2$. И действительно, при $t = 2$ в данном случае получаем тройки $(2 + 1, 2 + 3, 2 + 6) = (3, 5, 8)$ и $(2 + 0, 2 + 2, 2 + 4) = (2, 4, 6)$, таким образом получаем пару вырожденных треугольников (площади равны 0). Решения опять нет.

Продолжаем перебор вариантов, в 6-ом снова получим пару вырожденных троек $(3, 4, 7)$ и $(2, 6, 8)$. Ещё такие же случаи в 16-ом варианте $(1, 3, 4)$ и $(2, 5, 7)$, 24-ом варианте $(1, 6, 7)$ и $(2, 3, 5)$, 29-ом варианте $(1, 5, 6)$ и $(3, 4, 7)$

Некоторый интерес представляет 19 вариант, нет экстремумов, только точка перегиба. Ещё в варианте 23 обнуляются коэффициенты при двух старших степенях t , график - прямая.

Перебрав все варианты получаем, что при $n = 7$ искомым троек чисел нет.

Применим тот же подход для $n = 8$, t_i могут принимать и отрицательные значения. Для одинаковой чётности сумм троек необходимо, чтобы соотношение чётных и нечётных чисел среди 6 выбранных было 0-6, 2-4, 4-2 или 6-0. Среди 8 последовательных натуральных чисел больше 4-х одной чётности не получить, поэтому обязаны быть числа $t, t + 2, t + 4, t + 6$, далее, т.к. $n = 8$, то чётность крайних чисел разная. Тогда из 2-х чисел альтернативной чётности одно должно быть крайним, т.е. это или $t - 1$ или $t + 7$, но ровно одно из них. Оставшееся число выбирается из тройки $t + 1, t + 3, t + 5$. Всего будет 60 вариантов.

Разбор вариантов для всех комбинаций проведён в файле *R_8.XLS*.

Получено множество вырожденных треугольников - в вариантах 4, 5, 7, 12, 17, 18, 36 (при $t = 3$), 41, 46, 49, 60. Ну и, наконец, получены 2 искомым треугольника. В варианте 9 при $t = 32$ получены 2 тройки $(31, 36, 37)$ и $(32, 34, 38)$. Площади соответствующих треугольников равны $S = \sqrt{262080} \approx 511,9375$. А в варианте 34 при $t = 4$ найдена ещё одна пара треугольников $(4, 5, 6)$ и $(3, 8, 10)$. Площади соответствующих треугольников равны $S = \sqrt{98,4375} \approx 9,9216$. Других таких пар троек при $n = 8$ не существует.

Есть и ещё один, очень интересный случай - пара троек, соответствующая “мнимым” треугольникам. Так получается

в варианте 36 при $t = 2$, соответствующие тройки $(2, 4, 7)$ и $(1, 6, 8)$. Таких треугольников не существует, но при подстановке в формулу Герона, под корнем получаем равные значения $-36, 5625$.

Теоретически можно и продолжить процесс, перебирая все возможные комбинации троек при $n = 9$ или $n = 10$ и найти все такие решения. Но при $n = 9$ получаем 190 комбинаций троек чисел, а при $n = 10$ уже 560.

Подводим итоги, наименьшее возможное значение n равно 8, при этом имеем всего две пары троек:

$$(4, 5, 6) - (3, 8, 10)$$

$$(31, 36, 37) - (32, 34, 38)$$